

# PROMETNI PROPISI I SIGURNOSNA PRAVILA

## TEST

### 1. ŠTO JE MOTORNO VOZILO ?

- A) *Svako vozilo koje se pokreće snagom vlastitog motora*
- B) *Svako vozilo koje se pokreće snagom vlastitog motora osim vozila koja se kreću po tračnicama i pomoćnih pješačkih sredstava*
- C) *Svako vozilo koje se pokreće snagom vlastitog motora uključujući i vozila koja se kreću po tračnicama.*

### 2. ŠTO JE CESTA ?

- A) *Cesta je svaka javna cesta na kojoj se odvija promet isključivo motornih vozila*
- B) *Cesta je svaka javna površina kojom se odvija promet*
- C) *Cesta je svaka javna cesta, ulice u naselju i nerazvrstane ceste na kojoj se obavlja promet*

### 3. ŠTO JE BICIKLISTIČKA STAZA ?

- A) *Izgrađena prometna površina namijenjena prometu bicikala koja je odvojena od kolnika i obilježena propisanim prometnim znakom*
- B) *Dio kolnika namijenjen prometu bicikala i mopeda koji se prostire uzduž kolnika i koji je obilježen uzdužnom crtom na kolniku i propisanim prometnim znakom*

### 4. ŠTO JE NOGOSTUP?

- A) *Posebno uređena prometna površina namijenjena kretanju pješaka koja nije u razini s kolnikom ceste ili je od kolnika odvojena na drugi način*
- B) *Posebno uređena prometna površina namijenjena kretanju pješaka i biciklista, koja nije u razini s kolnikom ceste*

### 5. ŠTO JE OBILAŽENJE?

- A) *Prolaženje vozilom pokraj drugog vozila koje se kreće u suprotnom smjeru*
- B) *Prolaženje vozilom pokraj drugog vozila koje se kreće u istom smjeru*
- C) *Prolaženje vozilom pokraj zaustavljenog ili parkiranog vozila ili drugog objekta koji se nalazi na prometnoj traci kojom se vozilo kreće*

### 6. ŠTO JE PRETJECANJE?

- A) *Prolaženje vozilom pokraj drugog vozila koje se kreće u suprotnom smjeru*
- B) *Prolaženje vozilom pokraj drugog vozila koje se kreće u istom smjeru*
- C) *Prolaženje vozila pokraj zaustavljenog ili parkiranog vozila ili drugog objekta koji se nalazi na prometnoj traci kojom se vozilo kreće*

### 7. ŠTO JE TO KOLNIČKA TRAKA?

- A) *Dio cestovne površine namijenjen u prvom redu za promet vozila*
- B) *Obilježeni ili neobilježeni dio kolnika čija je širina dovoljna za nesmetan promet jednog reda motornih vozila u jednom smjeru*
- C) *Uzdužni dio kolnika namijenjen za promet vozila u jednom smjeru, s jednom prometnom trakom ili više prometnih traka*

**8. ŠTO NE SMIJETE ČINITI DRUGIM SUDIONICIMA U PROMETU DOK UPRAVLJATE VOZILOM?**

- A) Ometati ih
- B) Ugrožavati ih
- C) *Davati im propisane znakove*
- D) Dovoditi u opasnost njihovo zdravlje i život

**9. KADA OSOBA SMIJE UPRAVLJATI VOZILOM U PROMETU NA CESTI?**

- A) Kada posjeduje vozačku dozvolu za kategorije vozila kojim upravlja
- B) Kada je tjelesno i duševno sposobna za vožnju
- C) *Kada posjeduje potvrdu o oduzimanju vozačke dozvole*

**10. KOJOM NAJVEĆOM DOPUŠTENOM BRZINOM SMIJETE VOZITI CESTOM IZVAN NASELJA, OSIM NA AUTOCESTI I CESTI NAMIJENJENOJ ISKLJUČIVO ZA PROMET MOTORNIM VOZILIMA?**

\_\_\_\_\_ km na sat

**11. ŠTO JE PARKIRANJE?**

- A) *Prekid kretanja vozila u trajanju duljem od 3 minute, uključujući i prekid koji se čini da bi se postupilo po znaku ili pravilu kojim se upravlja prometom.*
- B) Prekid kretanja vozila u trajanju duljem od 3 minute, osim prekida koji se čini da bi se postupilo po znaku ili pravilu kojim se upravlja prometom.
- C) *Prekid kretanja vozila u trajanju do 3 minute, osim prekida koji se čini da bi se postupilo po znaku ili pravilu kojim se upravlja prometom*

**12. ŠTO JE VOZAČ OBVEZAN UČINITI AKO NAJERAVA VOZITI UNATRAG?**

- A) Voziti samo na kratkom dijelu ceste ako time ne ugrožava ili ne ometa druge sudionike u prometu
- B) *Uključiti desni pokazivač smjera*
- C) Uključiti sve pokazivače smjera

**13. ŠTO VOZAČ NE SMIJE ČINITI VOZILOM NA AUTOCESTI?**

- A) polukružno okretati vozilo
- B) *voziti krajnjom desnom trakom*
- C) kretati se unatrag

**14. S KOJIM OPASNOSTIMA MORATE RAČUNATI DOK NOĆU VOZITE KROZ NASELJE?**

- A) s neosvjetljenim pješacima i biciklistima
- B) s ostavljenim neosvijetljenim vozilima na kolniku
- C) *opasnosti nema ako se vozi sporo*

**15. U KOJIM SLUČAJEVIMA BOČNI VJETAR MOŽE BITI JAKO OPASAN?**

- A) kod vožnje preko mostova
- B) kod vožnje na prijevojima
- C) *kod vožnje u naselju*
- D) kod vožnje preko nadvožnjaka

**16. KAKO ĆETE VOZITI U SITUACIJI KADA JE MAGLA?**

- A) održavati siguran razmak
- B) *voziti sredinom kolnika*
- C) povećati pozornost i ne pretjecati

17. KOJE OPASNOSTI PRIJETE KAD SE NA MOKROM , BLJUŽGAVOM KOLNIKU VOZITE IZA KAMIONA?
- A) *u toj situaciji nema opasnosti*
  - B) zanošenje vozila
  - C) sklizak kolnik
18. ZBOG ČEGA MORATE SMANJITI BRZINU KADA PADA KIŠA?
- A) zbog smanjene vidljivosti iz vozila
  - B) zbog mogućnosti nastanka vodenog klina
  - C) *ako imam dobre gume brzinu ne moram smajivati*
19. VOZITE IZA AUTOBUSA KOJI KOČI NA MOKROJ CESTI. KOJE OPASNOSTI PRIJETE U TOJ SITUACIJI
- A) mogućnost zanošenja vozila
  - B) *nema opasnosti ako nema vozila iz suprotnog smjera*
  - C) mogućnost nalijetanja na autobus
20. PRIBLIŽAVATE SE RASKRIŽJU. NA SEMAFORU JE UPALJENO ŽUTO TREPTAVO SVJETLO. IZNAD SEMAFORA JE ZNAK **STOP**. KAKO STE DUŽNI POSTUPITI U OVOJ SITUACIJI?
- A) povećati oprez
  - B) obavezno zaustaviti vozilo
  - C) *voziti bez zaustavljanja*
21. KADA, IZNIMNO, SUDIONIK PROMETNE NEZGODE MOŽE NAPUSTITI MJESTO NESREĆE?
- A) *zbog uzimanja lijekova ili konzumiranja alkohola do količine od 0,5 grama*
  - B) zbog obavještanja policije o prometnoj nezgodi
  - C) *zbog žurbe i kašnjenja na željeno odredište*
  - D) zbog ukazivanja medicinske pomoći
22. ŠTO VAM JE DUŽNOST UČINITI AKO VAM SE DOGODI PROMETNA NESREĆA?
- A) pružiti prvu pomoć osobama ozlijeđenima u nesreći, ako ih ima
  - B) osigurati mjesto nesreće
  - C) *što prije napustiti mjesto nesreće*
  - D) *bez obzira na posljedice prometne nesreće, maknuti vozila s kolnika*
23. ČEMU MORATE PRILAGODITI BRZINU VOŽNJE DA BISTE UTJECALI NA TO DA DO PROMETNE NESREĆE NE DOĐE?
- A) stanju ceste
  - B) uvjetima koji vladaju u okružju odvijanja prometa
  - C) *količini alkohola u organizmu*
  - D) osobnim vještinama i sposobnostima
24. ŠTO JE UPUTNO UČINITI AKO VAM SE DOGODI PROMETNA NESREĆA?
- A) zapisati ime i adresu svjedoka
  - B) zapisati podatke o drugom vozaču
  - C) skicirati mjesto prometne nesreće
  - D) ispuniti europsko izvješće o nesreći

25. VOZITE CESTOM I UOČITE MJESTO PROMETNE NESREĆE. KAKO ĆETE POSTUPITI?
- A) smanjiti brzinu
  - B) *smanjiti brzinu samo ako je na mjestu nesreće policijska patrola*
  - C) zaustaviti se na dovoljnoj udaljenosti od mjesta nesreće i uključiti sve pokazivače smjera.
  - D) *Okrenuti vozilo i obavezno nastaviti vožnju iz smjera iz kojeg ste došli.*
26. VOZAČ IZ SUPROTNOG SMJERA ŽELI SKRENUTI ULIJEVO. ZADRŽAVA KOLONU IZA SEBE. KAKO ĆETE POSTUPITI?
- A) *voziti ne obazirući se na vozača koji želi skrenuti ulijevo*
  - B) dati vozaču znak svjetlima da može skrenuti
  - C) *zvučnim znakom ga upozoriti da mora čekati*
  - D) propustiti ga da skrene ulijevo
27. KOJA SVJETLA, U PRAVILU, VOZAČ MOTORNOG VOZILA UPOTREBLJAVA ZA OSVIJETLJENJE CESTE
- A) duga svjetla
  - B) *kratka svjetla*
28. KOLIKA MORA BITI ŠIRINA SLOBODNOG PROLAZA, NA DIJELU CESTE OD ZAUSTAVLJENOG ILI PARKIRANOG VOZILA DO PUNE RAZDJELNE CRTE?
- \_\_\_\_\_metra
29. ŠTO TREBA VOZAČ UČINITI KAD SJEDNE U VOZILO?
- A) prilagoditi sjedalo i naslon za glavu
  - B) obvezno se vezati sigurnosnim pojasom
  - C) upozoriti sve osobe u vozilu da se vežu sigurnosnim pojasom
30. KAKO MORATE GLEDATI DOK VOZITE UNATRAG?
- A) preko desnog ramena prostor iza vozila
  - B) *vožnja unatrag može se obaviti gledanjem na unutarnje i vanjska ogledala*
  - C) povremeno naprijed i sa strane vozila
  - D) *za vrijeme vožnje unatrag nije potrebno gledati naprijed i sa strane*
31. PRIBLIŽAVATE SE VOZILOM PRIJELAZU CESTE PREKO ŽELJEZNIČKE PRUGE.POLUBRANICI SU SE POČELI SPUŠTATI.ŠTO MORATE UČINITI?
- A) *ubrzati i prijeći preko prijelaza, jer vlak još ne nailazi*
  - B) *zaustaviti vozilo ispred prijelaza ceste preko željezničke pruge*
32. NA INSTRUMENT PLOČI UPALJENA JE PLAVA ŽARULJA ŠTO TO ZNAČI?
- A) *da vozim s upaljenim sjetlima za maglu*
  - B) da vozim s upaljenim dugim svjetlima
  - C) *da vozim s upaljenim kratkim svjetlima*

33. VOZITE IZA VOZILA BROJ 1 U SITUACIJI KAO NA SLICI.KAKO ĆETE POSTUPITI?



- A) zaustaviti vozilo jer imam crveno svjetlo na semaforu
- B) zaustaviti vozilo jer imam znak
- C) zaustaviti vozilo zbog položaja tijela policajca
- D) voziti kroz raskrižje uz povećanu pozornost

34. KAKO TREBA POSTUPITI AUTOMOBIL BROJ 1 U OVOJ SITUACIJI?



- A) voziti zadnji kroz raskrižje
- B) propustiti bicikl jer ima prednost pred svima
- C) voziti prije bicikla
- D) voziti poslije automobila

35. ŠTO TREBA IZBJEGAVATI NA ŠLASKOM NA OVAJ PROMETNI ZNAK?



- A) naglo kočenje
- B) prebrzu vožnju jer nailazi više uzastopnih zavoja
- C) nagle pokrete upravljačem
- D) naglo ubrzavanje

36. NA ŠTO UKAZUJE OVAJ PROMETNI ZNAK?




- A) vozila iz suprotnog smjera su me obvezna pričekati
- B) vozila iz suprotnog smjera imaju prednost prolaska
- C) imam prednost prolaska pred vozilima iz suprotnog smjera

37. NA ŠTO UKAZUJE OVAJ PROMETNI ZNAK?



- A) na zabranu prometa u jednom smjeru
- B) na zabranu prometa u oba smjera
- C) da se promet odvija samo iz suprotnog smjera

38. KOJI OD PROMETNIH ZNAKOVA STOJE TOČNO NA MJESTU ODAKLE POČINJE OPASNOST ILI NEPOSREDNO ISPRED MJESTA OPASNOSTI?



- A) 3,4 i 5
- B) 3,4
- C) 2,4
- D) 2,3 i 5

39. KOJI PROMETNI ZNAK OZNAČAVA BRZINU KOJA SE PREPORUČA NA ODREĐENOM DIJELU CESTE?



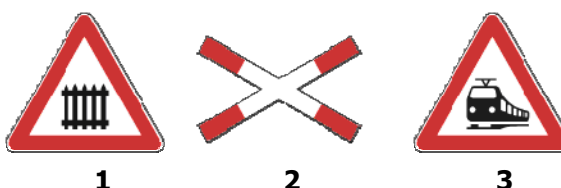
\_\_\_\_\_ (upisati broj znaka)

40. NA KOJA SE VOZILA ODNOSI OVAJ PROMETNI ZNAK?



- A) na motocikle bez bočne prikolice
- B) na osobne automobile
- C) na teretne automobile
- D) na mopede
- E) na traktor

41. KOJI PROMETNI ZNAK OZNAČUJE MJESTO NA KOJEM CESTA PRELAZI PREKO ŽELJEZNIČKE PRUGE U RAZINI BEZ BRANIKA ILI POLUBRANIKA?



1

2

3

Zaokružiti broj prometnog znaka

42. O ČEMU OVISI DUŽINA ZAUSTAVNOG PUTA VOZILA?

- A) o stanju kolnika
- B) brzini vožnje
- C) gustoći prometa

43. VOZITE IZA DRUGOG VOZILA .ŠTO STE DUŽNI UČINITI?

- A) voziti na minimalnom razmaku iza drugog vozila
- B) voziti na potrebnom razmaku iza drugog vozila
- C) prilagoditi brzinu vožnje

44. KOJOM NAJVEĆOM BRZINOM VOZAČ OSOBNOG VOZILA SMIJE VOZITI CESTOM U NASELJU ,AKO PROMETNIM ZNAKOM NIJE DRUKČIJE ODREĐENO?

\_\_\_\_\_ km na sat

45. KOJOM NAJVEĆOM BRZINOM VOZAČ OSOBNOG VOZILA SMIJE VOZITI NA CESTI NAMIJENJENOJ ISKLJUČIVO PROMETU MOTORNIH VOZILA IZVAN NASELJA?

\_\_\_\_\_ km na sat

46. KADA ĆE SE SMATRATI DA JE VOZAČ OSOBNOG AUTOMOBILA POD UTJECAJEM ALKOHOLA?

- A) kada se utvrdi da udio alkohola u krvi iznosi više od \_\_\_\_\_grama po kg
- B) kada se utvrdi da udio alkohola u krvi za mlade vozače i profesionalce iznosi više od \_\_\_\_\_grama po kg

47. ŠTO MORA UČINITI VOZAČ OSOBNOG AUTOMOBILA DANJU DOK VOZI AKO IZNENADA NASTUPI MAGLA?

- A) uključiti kratka svjetla za osvjetljavanje ceste
- B) uključiti svjetla za maglu ako postoje

48. KAKO ĆETE POSTUPITI U OVOJ SITUACIJI?



- A) obvezno propustiti vozilo koje dolazi s lijeve strane
- B) obvezno propustiti vozilo iz suprotnog smjera

49. PRIBLIŽAVATE SE OVOM RASKRIŽJU.KAKO ĆETE POSTUPITI?



- A) propustiti vozilo broj 1
- B) propustiti vozilo broj 2

50. KAKO ĆETE POSTUPITI U OVOJ SITUACIJI?



- A) propustiti vozilo s desne strane
- B) voziti prije vozila s desne strane

51. KAKO ĆETE POSTUPITI U OVOJ SITUACIJI?




- A) voziti prvi kroz raskrižje
- B) propustiti oba ova vozila

52. UPRAVLJATE VOZILOM BROJ 1. PRIBLIŽAVATE SE RASKRIŽJU NA ČIJIM SEMAFORIMA SVIJETLI ŽUTO TREPERAVO SVJETLO. KAKO ĆETE POSTUPITI U OVOJ SITUACIJI?




- A) voziti prvi kroz raskrižje, jer sam u cesti s pavom prednosti prolaska
- B) propustiti vozilo broj 2, jer ima prednost
- C) obratiti pozornost na vozilo broj 3 i obavezno ga propustiti
- D) voziti prije vozila broj 2, jer lijevi skretač uvijek mora pričekati

53. PRIBLIŽAVATE SE OVOM RASKRIŽJU U AUTU BROJ 1. NA SEMAFORU JE UPALJENO ŽUTO TREPTAVO SVJETLO. KAKO ĆETE POSTUPITI?



- A) propustiti vozilo broj 2, koje dolazi s desne strane
- B) propustiti vozilo broj 3
- C) voziti prije vozila broj 3
- D) voziti prvi kroz raskrižje

54. PRIBLIŽAVATE SE OVOM RASKRIŽJU U VOZILU BROJ 1.KAKO ĆETE POSTUPITI?



- A) propustiti vozilo broj 3
- B) voziti prije vozila broj 3
- C) propustiti vozilo broj 2

55. ŠTO JE KOLNIK?

- A) dio cestovne površine namijenjen u prvom redu za promet pješaka
- B) je dio cestovne površine namijenjen u prvom redu za promet vozila s jednom prometnom trakom ili više prometnih traka

56. ZAGAĐUJETE LI OKOLIŠ I ZDRAVLJE LJUDI VOZEĆI VAŠE VOZILO?

- A) ne
- B) ne, ako vozim sporo
- C) da

57. KOJE SU PREDNOSTI VOŽNJE VOZILA OPREMLJENOG KATALIZATOROM?

- A) tiši i mirniji rad motora
- B) smanjenje emisije štetnih plinova
- C) zaštita okoliša

58. VAŠIM VOZILOM VUČETE KAMP-PRIKOLICU ILI PRIKLJUČNO VOZILO BEZ KOČNICA.KOJOM BRZINOM SMIJETE NAJVIŠE VOZITI?

\_\_\_\_\_ km na sat

59. SKREĆETE U BOČNU ULICU.NA KOLNIKU NE POSTOJI OBILJEŽENI PJEŠAČKI PRIJELAZ.KAKO ĆETE POSTUPITI?

- A) skretanje obaviti ne smanjujući brzinu
- B) propustiti pješake koji su već stupili na kolnik
- C) prema potrebi zaustaviti vozilo ako pješaci namjeravaju prijeći kolnik
- D) skretanje obaviti smanjenom brzinom

60. ŠTO UTJEČE NA PRODULJENJE PUTA KOČENJA?

- A) mokr i blatnjav kolnik
- B) opterećenje vozila
- C) *suh kolnik*

61. ČEMU STE DUŽNI PRILAGODITI BRZINU VOŽNJE NA CESTI IZVAN NASELJA?

- A) *broju putnika koje prevozite u vozilu*
- B) *maksimalnoj od proizvođača određenoj brzini vozila*
- C) osobinama i stanju ceste, preglednosti, atmosferskim prilikama, stanju vozila i tereta i gustoći prometa

62. KADA SE VOZAČU MOŽE ODUZETI VOZAČKA DOZVOLA?

- A) ako vozi brzinom većom od 50km na sat od dopuštene izvan naselja
- B) ako pobjegne s mjesta prometne nesreće u kojoj je sudjelovao
- C) ako odbije podvrgnuti se ispitivanju ili stručnom pregledu, odnosno uzimanju krvi i urina
- D) *ako vozi tehnički neispravno vozilo*

63. KOJA SE VOZILA NE SMIJU VUĆI UŽETOM?

- A) *vozila koja imaju neispravan uređaj za davanje znakova*
- B) *vozila koja imaju neispravan uređaj za osvjetljavanje*
- C) vozila koja imaju neispravan uređaj za upravljanje
- D) vozila koja imaju neispravan uređaj za zaustavljanje

64. KAKO ĆETE SE PONAŠATI KOD OVOG PROMETNOG ZNAKA?



- A) prilagoditi brzinu vožnje
- B) *promet iza sebe upozoriti desnim pokazivačem smjera na zavoj*
- C) u pravilu voziti u nižem stupnju prijenosa
- D) pripremiti se za svladavanje više uzastopnih zavoja

65. KAKO ĆETE POSTUPITI KOD OVOG PROMETNOG ZNAKA?




- A) smanjiti brzinu vožnje i po potrebi zaustaviti vozilo
- B) propustiti vozila iz suprotnog smjera
- C) *nastaviti vožnju, jer imam prednost prolaska pred vozilima iz suprotnog smjera*

66. KOJI PROMETNI ZNAK OZNAČUJE DA VOZITE CESTOM S PREDNOŠĆU PROLASKA?



1



2



3

\_\_\_\_\_ upisati broj prometnog znaka

67. NA ŠTO UKAZUJE OVAJ PROMETNI ZNAK?



- A) na početak ceste namjenjene isključivo za promet motornih vozila ili brze ceste
- B) *na to da je dozvoljena vožnja samo osobnih automobila*
- C) na ograničenje brzine kretanja do 110 km na sat

68. NA ŠTO UKAZUJE OVAJ PROMETNI ZNAK SA DOPUNSKOM PLOČOM?

- A) *prednost prolaska u svim smjerovima*
- B) položaj ceste s pravom prednosti prolaska
- C) *obvezno skretanje ulijevo, ulice ravno i desno su slijepe*



69. KADA JE DOPUŠTENO ZAPOČETI PRETJECATI DRUGO VOZILO?

- A) ako se pretjecanjem ne ugrožavaju vozila iz suprotnog smjera
- B) ako vozilo iza nije počelo pretjecati
- C) ako vozilo ispred nije počelo pretjecati

70. KOJA JE NAJVEĆA DOPUŠTENA BRZINA VOŽNJE KOJOM SMIJETE VOZITI U NASELJU AKO PROMETNIM ZNAKOM NIJE DRUKČIJE ODREĐENO?

\_\_\_\_\_ km na sat

71. ZBOG ČEGA JE VOŽNJA POD UTJECAJEM ALKOHOLA OPASNA?

- A) *bitno povećava vozačeve sposobnosti*
- B) *skraćuje vrijeme reagiranja vozaču*
- C) produžuje vrijeme reagiranja vozača
- D) vozač teže procjenjuje udaljenost

72. KAKO ĆETE POSTUPITI PRI UKLJUČIVANJU U PROMET?

- A) uključiti pokazivač smjera
- B) *uključivanje obaviti bez pokazivača smjera*
- C) propustiti vozila koja voze prometnicom na koju se uključujem

73. NA RASKRIŽJU VOZILOM NAMJERAVATE SKRENUTI ULIJEVO.U SUSRET VAM DOLAZI VOZILLO KOJE VOZI RAVNO (ZADRŽAVA SMJER VOŽNJE).KAKO ĆETE POSTUPITI?
- A) čekati u raskrižju dok to vozilo prođe
  - B) *voziti prije vozila koje zadržava smjer vožnje*
74. ŠTO VOZAČ MORA UČINITI KADA NAMJERAVA PROMIJENITI PROMETNU TRAKU?
- A) uvjeriti se da to može učiniti bez opasnosti za druge sudionike
  - B) *promjenu obaviti bez upozorenja drugih sudionika*
  - C) uvjeriti se da promjenu trake može obaviti tamo gdje to dopuštaju oznake na kolniku
  - D) druge sudionike jasno i pravodobno upozoriti o svojoj namjeri
75. KOJOM STRANOM SU OBVEZNI KRETATI SE PJEŠACI CESTOM IZVAN NASELJA
- A) *bilo kojom stranom kolnika*
  - B) uz lijevi rub kolnika u smjeru kretanja
  - C) *ne smiju se kretati cestom izvan naselja*
  - D) *uvijek uz desni rub kolnika u smjeru kretanja*
76. ŠTO ZA VAS ZNAČI UPALJENO ŽUTO I CRVENO SVIJETLO ISTODOBNO NA SEMAFORU?
- A) zabranu prolaska
  - B) skoru pojavu zelenog svjetla i pripremu za prolazak raskrižjem
  - C) *dopušten prolazak kroz raskrižje*
  - D) *skoru pojavu crvenog svjetla*
77. U NORMALNIM PROMETNIM UVJETIMA BRZINA VOŽNJE NA CESTI NE SMIJE SE OGRANIČITI PROMETNIM ZNAKOM ISPOD KOLIKO KM NA SAT?
- \_\_\_\_\_ km na sat
78. KOJI NAJMANJI RAZMAK (U METRIMA) MORATE OSTAVITI OD VOZILA DO NAJBЛИŽEG RUBA POPREČNOG KOLNIKA NA RASKRIŽJU AKO GA ŽELITE PARKIRATI ILI ZAUSTAVITI?
- \_\_\_\_\_ metara
79. NAIŠLI STE NA PROMETNU NESREĆU .KOJA JE VAŠA OBVEZA KAO VOZAČA?
- A) pružiti prvu pomoć osobama ozlijeđenim u prometnoj nesreći
  - B) *nastaviti vožnju bez zaustavljanja uz povećan oprez da ne udarim u vozilo koje je sudjelovalo u prometnoj nesreći*
80. NAMJERAVATE NA RASKRIŽJU SKRENUTI ULIJEVO.ŠTO MORATE UČINITI?
- A) pravodobno uključiti lijevi pokazivač smjera
  - B) propustiti vozila koja dolazeći iz suprotnog smjera voze ravno ili skreću udesno
  - C) *proći prvi kroz raskrižje*
81. NA RASKRIŽJU ŽELITE SKRENUTI ULIJEVO.KAKO ĆETE SE MIMOĆI S VOZILOM KOJE IZ SUPROTNOG SMJERA TAKOĐER SKREĆE ULIJEVO?
- A) propustiti vozilo s moje desne strane
  - B) *propustiti vozilo s moje lijeve strane*

82. KOJE OPASNOSTI MOGU NASTATI PRILIKOM OBILAŽENJA ZAUSTAVLJENOG VOZILA?
- A) nailazak vozila iz suprotnog smjera
  - B) nedovoljni bočni razmak od zaustavljenog vozila
  - C) iznenadno otvaranje vrata na zaustavljenom vozilu
  - D) nailazak pješaka iza zaustavljenog vozila
83. KAKO TREBA KOČITI MOTOCIKLOM U TRENUTKU IZNENADNE OPASNOSTI?
- A) *isključivo nožnom kočnicom*
  - B) ručnom i nožnom kočnicom istodobno
  - C) *isključivo ručnom kočnicom*
84. VOZITE MOTOCIKL U SKUPINI OD ČETIRI. KAKO SMIJETE VOZITI?
- A) *usporedno, dva po dva*
  - B) jedan iza drugoga
  - C) *u redu, po cijeloj širini prometnog traka*
85. TKO MORA NOSITI ZAŠTITNU KACIGU NA GLAVI ZA VOŽNJE MOTOCIKLOM I MOPEDOM?
- A) *samo vozač*
  - B) *samo suvozač, ako se prevozi*
  - C) vozač i suvozač, ako se prevoze
86. VOZI LI VOZAČ MOTOCIKLA ILI MOPEDA KAKO JE PROPISANO AKO SE KREĆE PO SREDIŠNJOJ BIJELOJ LINIJI IZMEĐU DVA PROMETNA TRAKA
- A) ne vozi kako je propisano
  - B) *vozi kako je propisano*
87. VOZITE MOTOCIKL CESTOM IZVAN NASELJA. KOJOM NAJVEĆOM BRZINOM SMIJETE VOZITI?
- \_\_\_\_\_ km na sat
88. KAKO ĆETE ODRŽAVATI POLOŽAJ MOTOCIKLA U PROMETNOJ TRACI
- A) voziti sredinom prometne trake ako je obilježena
  - B) voziti što bliže desnom rubu kolnika ako prometna traka nije obilježena
89. KAKO VAŠIM PONAŠANJEM U PROMETU MOŽETE DOPRINJETI SMANJENJU RIZIKA?
- A) poštivanjem prometnih propisa i pravila
  - B) *agresivnom vožnjom*
  - C) defenzivnom vožnjom
  - D) *nervoznom vožnjom*
90. ŠTO ZNAČI NAIZMJENIČNO PALJENJE CRVENIH SVJETALA ISPRED PRUŽNOG PRIJELAZA?
- A) *prelazak preko pružnog prijelaza je slobodan*
  - B) branik ili polubranik se počinje spuštati
  - C) nailazi vlak
91. KAD NA RASKRIŽJU DOLAZE VOZILA IZ SUPROTNIH SMJEROVA I SKREĆU ULIJEVO, KAKO VOZAČ MIMOILAZI VOZILO?
- A) *propušta ga sa svoje lijeve strane*
  - B) propušta ga sa svoje desne strane

92. SA KOJE STRANE SE U PRAVILU OBAVLJA PRETJECANJE?  
A) s lijeve strane  
B) s desne strane, ako je vozilo na kolniku zauzelo takav položaj i njegov vozač daje takav znak da se sa sigurnošću može zaključiti da to vozilo skreće ulijevo
93. ŠTO NE SMIJE ČINITI VOZAČ KOJI SE VOZILOM KREĆE KROZ TUNEL?  
A) polukružno okretati vozilo  
B) zaustaviti vozilo u tunelu  
C) kretati se vozilom unatrag
94. GDJE U VOZILU VOZAČ OSOBNOG AUTOMOBILA NE SMIJE PREVOZITI DJECU  
  
A) na prednjem sjedalu, ako su djeca starija od 12 godina  
B) na prednjem sjedalu, ako su djeca mlađa od 12 godina
95. ŠTO JE VOZAČ DUŽAN UČINITI PRIJE ZAPOČINJANJA NEKE RADNJE VOZILOM?  
A) uvjeriti se da to može učiniti bez opasnosti za druge sudionike u prometu ili imovinu, vodeći pri tom računa o položaju vozila te o smjeru i brzini kretanja  
B) uvjeriti se da to može učiniti bez opasnosti za druge sudionike u prometu, ne vodeći pritom računa o položaju vozila te o smjeru i brzini kretanja
96. O ČEMU OVISI RIZIK U PROMETU?  
  
A) ponašanju sudionika u prometu  
B) o složenosti prometne situacije  
C) o razini stečenih vještina vozača  
D) o percepciji i procjeni prometne situacije
97. KAKO DJECA NAJČEŠĆE REAGIRAJU U PROMETU?  
A) spontano i nepredvidivo  
B) razborito i staloženo  
C) u skladu s propisima
98. KADA VOZAČ NE SMIJE PRETJECATI DRUGO VOZILO?  
A) kada se približava obilježenom pješačkom prijelazu  
B) kada vozilo prelazi pješački prijelaz  
C) kada se vozilo zaustavlja radi propuštanja pješaka na pješačkom prijelazu
99. ŠTO NE SMIJETE ČINITI DOK VOZITE KROZ ZAVOJ, ZBOG STABILNOSTI VOZILA ?  
  
A) kočiti u zavoju  
B) voziti s pritisnutom papučicom spojke  
C) voziti s pritisnutom papučicom gasa
100. ŠTO MORATE UČINITI PRI ODREĐIVANJU REDOSLIJEDA PROLASKA VOZILA NA RASKRIŽJU?  
A) utvrditi kako je određeno odvijanje prometa na raskrižju  
B) utvrditi smjerove nailaska vozila  
C) propustiti vozila koja imaju prednost

101. ŠTO ZNAČI ZNAK ŠTO GA DAJE POLICAJAC NA RASKRIŽJU?



- A) *dozvoljeno skretanje ulijevo*
- B) *obvezno zaustavljanje za sva vozila ispred raskrižja*
- C) *doći će do promjene položaja i znaka policajca i slobodnog prolaska*

102. NA CESTI IZVAN NASELJA ZAUSTAVLJENO JE VOZILO ZBOG KVARA. NA KOJOJ UDALJENOSTI MORATE POSTAVITI SIGURNOSNI TROKUT IZA ZAUSTAVLJENOG VOZILA NA KOLNIKU?

- A) *minimalno 50 metara iza vozila*
- B) *minimalno 80 metara iza vozila*
- C) *minimalno 100 metara iza vozila*

103. AKO VUČETE DRUGO NEISPRAVNO VOZILO, KOJOM NAJVEĆOM BRZINOM SMIJU VOZITI VOZILA?

\_\_\_\_\_ km na sat

104. ŠTO SE PODRAZUMIJEVA POD ZIMSKIM UVJETIMA NA CESTI?

- A) *ako je na kolniku veća količina vode i blata*
- B) *ako je kolnik prekriven snijegom*
- C) *ako je kolnik prekriven mokrim lišćem*
- D) *ako je na kolniku poledica*

105. KADA U PROMETU NA CESTI PRESTAJE VRIJEDITI ZABRANA ILI OGRANIČENJE NA PROMETNOM ZNAKU?

- A) *prolaskom prvog slijedećeg raskrižja*
- B) *prolaskom pored znaka prestanka zabrane*

106. PROMETOM NA RASKRIŽJU UPRAVLJA POLICAJAC. KAKO MOŽETE POSTUPITI S OBZIROM NA ZNAK KOJI DAJE?

- A) *mogu skrenuti ulijevo*
- B) *ne mogu skrenuti ulijevo*
- C) *mogu skrenuti udesno*
- D) *mogu nastaviti vožnju ravno*



107. SMIJETE LI PRETJECATI KOLONU VOZILA?

- A) *da, jer se kolona uvijek kreće sporo*
- B) *da, jer kolona smanjuje propusnu moć ceste*
- C) *ne, jer nije dopušteno*

- 108. KADA STE UMJESTO DUGIH SVJETALA ZA OSVJETLJAVANJE CESTE DUŽNI UPOTRIJEBITI KRATKA SVJETLA?**
- A) prilikom mimoilaženja s drugim vozilom
  - B) za vrijeme vožnje iza drugog vozila
- 109. KAKO ĆETE POSTUPITI PRI VOŽNJI ZA JAKOG VJETRA?**
- A) *ubrzati da bi što prije prošao dionicu sa jakim vjetrom*
  - B) smanjiti brzinu vožnje
  - C) pri mimoilaženju držati što veći bočni razmak
- 110. KOJA SANKCIJA SLIJEDI AKO PREKORAČITE OGRANIČENJE BRZINE ZA VIŠE OD 50 KM NA SAT OD DOPUŠTENE ILI PROMETNIM ZNAKOM OGRANIČENE BRZINE U NASELJU?**
- A) novčanom kaznom u iznosu od 5.000,00 do 15.000,00 kuna ili kaznom zatvora u trajanju do 60 dana
  - B) vozaču se u evidenciju upisuju 3 (tri) negativna prekršajna boda ako je pravomoćnom odlukom o prekršaju proglašen krivim
- 111. ŠTO SE PODRAZUMIJEVA POD ZIMSKOM OPREMOM?**
- A) gume M+S za zimsku uporabu na svim kotačima
  - B) ljetne gume sa profilom šara dubine najmanje 4 mm i na pogonskim kotačima lance za snijeg
  - C) *radijalne gume na svim kotačima*

## TOČNI ODGOVORI

1.B; 2.C; 3.A ;4.A ;5.C; 6.B; 7.C; 8.A,B,D; 9.A,B; 10. 90; 11.B; 12.A,C; 13.A,C;  
14.A,B; 15.A,B,D; 16.A,C; 17.B,C; 18.A,B; 19.A,C; 20.A,B; 21.B,D; 22.A,B; 23.A,B,D;  
24.A,B,C,D; 25.A,C; 26.B,D; 27.A; 28. 3; 29.A,B,C; 30.A,C; 31.B; 32.B; 33.D; 34.C,D;  
35.A,C,D; 36.A,C; 37.A,C; 38.D; 39. 2; 40.B,C,E; 41. 2; 42.A,B; 43.B,C; 44. 50;  
45. 110; 46. 0,5 i 0,0; 47.A,B; 48.A,B; 49.A; 50.A; 51.B; 52.B,C; 53.A,C; 54.A; 55.B;  
56.C; 57.B,C; 58. 80; 59.B,C,D; 60.A,B; 61.C; 62.A,B,C; 63.C,D; 64.A,C,D; 65.A,B;  
66. 2; 67.A,C; 68.B; 69.A,B,C; 70. 50; 71.C,D; 72.A,C; 73.A; 74.A,C,D; 75.B; 76.A,B;  
77. 40; 78. 5; 79.A;80.A,B; 81.A; 82.A,B,C,D; 83.B; 84.B; 85.C; 86.A; 87. 90; 88.A,B;  
89.A,C; 90.B,C; 91.B; 92.A,B; 93.A,B,C; 94.B;95.A; 96.A,B,C,D; 97.A; 98.A,B,C;  
99.A,B; 100.A,B,C; 101.B,C; 102.C; 103. 40; 104.B,D; 105.A,B; 106.A,C,D; 107.C;  
108.A,B; 109.B,C; 110.A,B; 111.A,B;